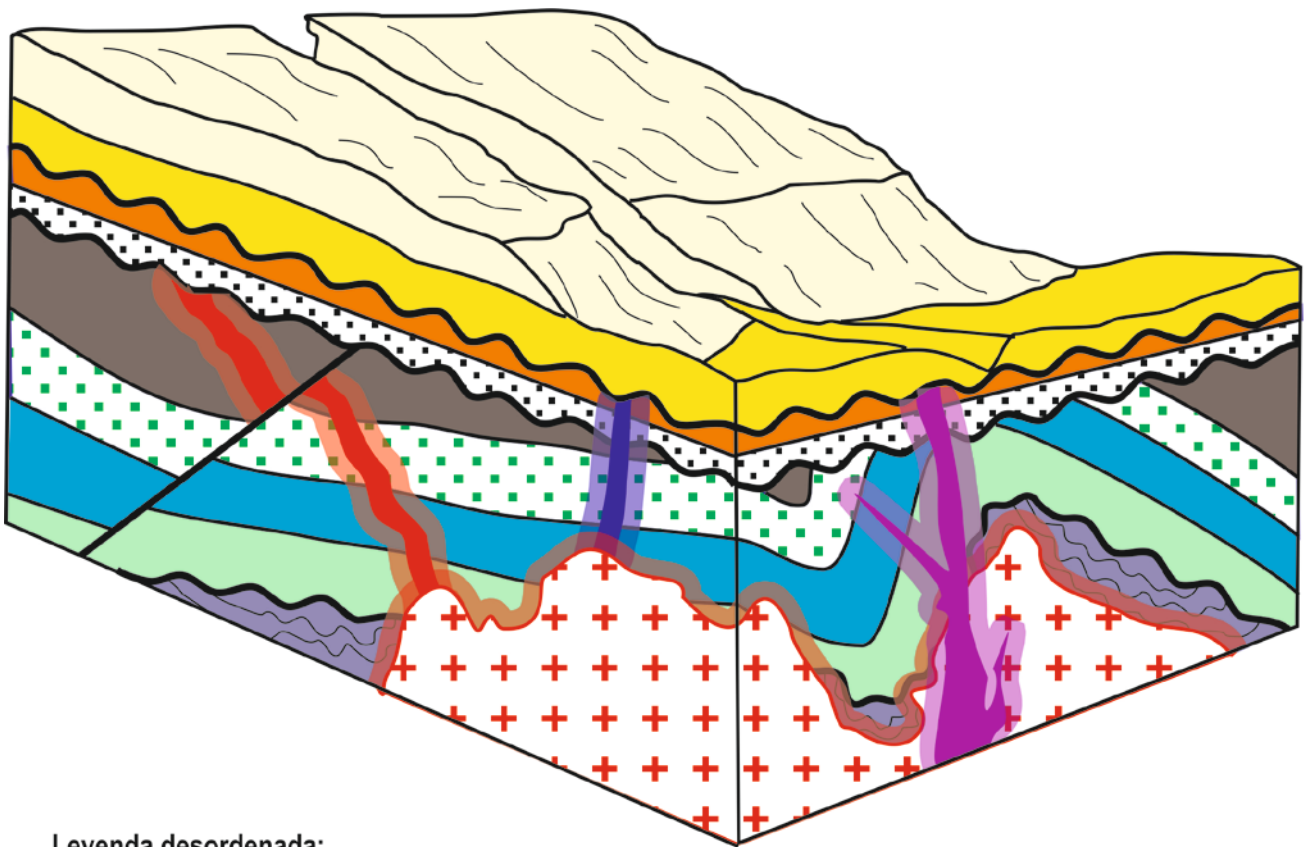


## EJERCICIO PRÁCTICO












DNI DEL ALUMNO/A: .....

A partir del siguiente bloque-diagrama geológico, contestar las siguientes cuestiones:

- 1 – Aplicando los principios geológicos básicos, ¿qué error existe en el bloque-diagrama? Justificar la respuesta.
- 2 – Eliminando mentalmente ese error, realizar la historia geológica del bloque-diagrama con indicación de las discordancias que van sucediéndose y los episodios de ascenso y descenso del nivel del mar.



Leyenda desordenada:

	Falla (Oligoceno)		Conjunto de estratos detriticos y carbonatados marinos (Cretácico)		Intrusión ígnea (Paleoceno)
	Sedimentos detriticos lacustres (Plioceno)		Conjunto de rocas metamórficas (Precámbrico) Originalmente fueron estratos sedimentarios detriticos continentales		Intrusión ígnea (Eoceno)
	Arenas y Limos aluviales (Holoceno)				Intrusión ígnea (Pleistoceno)
					Intrusión ígnea (Mioceno)